

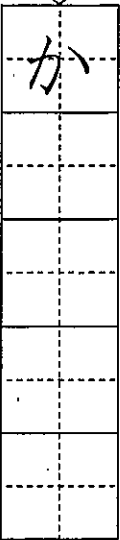



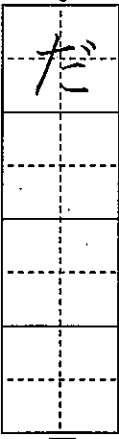

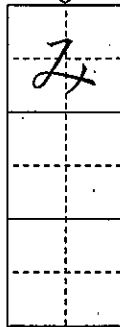



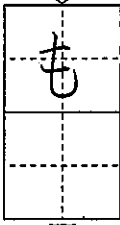
1 つぎの えをみて、 に ひらがなで ことばをかきましょう。

5  ↓  ⑤

4  ↓  ④

3  ↓  ③



2  ↓  ②


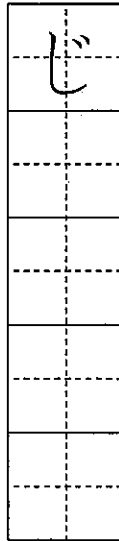
1  ↓  ①


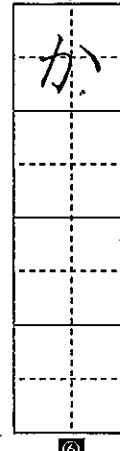
※つぎの ページにも もんだいがあります。


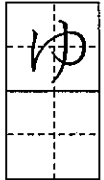
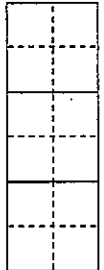
令和元年度 国語 小1
 1学期末問題(第2回) 国語 小1
 組 番 名
 めあて がくしゅうした ひらがなをつかって いろいろな ことばをかこう。
 10問中


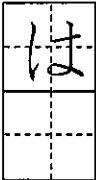
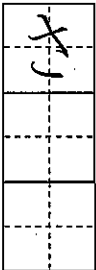
二に つぎの えをみて、ぶんをかきましょう。ぶんの おわりには「。」をかきましょう。


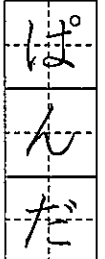
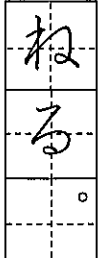
8  ↓  ⑧

7  ↓  ⑦

6  ↓  ⑥

2  ↓  が  ⑩

1  ↓  が  ⑨

おてほん  ↓  ぱんだ が  ねる。 ⑪

■こたえ

1 もも
 2 みかん

3 だいこん
 4 ろけっど

5 かきごおり

6 かぼちゃ

7 じてんしゃ

8 びよーいん

9 はながさく

10 ゆきがふる

とりくんでみよう!

に ひらがなを かいて ことばを かんせい させましょう。

1 おとぎさん



2 せんせ



こたえ

と い
 1 2


★先立方へ～解答欄の 1～10 は、問題結果空欄の質問番号に対応しています。

1 に あてはまる かずを かきましよう。

(1) 7 8 9 10

(2) 9 8 7 6 4 3

2 あわせて になるように に あてはまる かずを かきましよう。



3 つぎの もんだいに、こたえましよう。

(1) まえから 4ひきめを で かこみましよう。
 まえ うしろ





(2) みぎから 3ぼんまで で かこみましよう。



4 つぎの もんだいに こたえましよう。
 (1) は、あわせて なんぼんですか。

したの【え】を つかって かんがえ、しきと こたえを かきましよう。



しき

こたえ

(2) ゆいさんたちは、5にんで そうじを して います。
 4にん くと、せんぶで なんにんに なり ますか。
 したの【ず】を つかって かんがえ、
 しきと こたえを かきましよう。



【ず】

しき

こたえ

本表の方へ～解答欄の ①～④ は、問題結果表裏の返答番号に対応しています。

1 (1) (2)

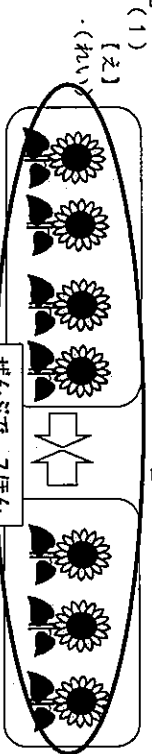
2 (1) (2)

3 (●●●) と
7 (●●●●●●●) をあわせると
10 (●●●●●●●●●●) になります。

3 (1) まえから 4ひきめ
 (2) みぎから 3ほんまで



4 (1)
 ずになにも かいていなくても、しき、
 こたえが あっていれば、せいはいです。



(1) しき + こたえ
 ほん

(2) +
 ずになにも かいていなくても、しき、
 こたえが あっていれば、せいはいです。

(2) +
 しき こたえ

めあて がつしゆつした ひらがなや かたかなを つかって いろいろな ことばを
 ぶんを かこう。



一 つぎの えを みて、ひらがなの ことばを かきま
 しょう。

1 に と

2 ち

3 ち


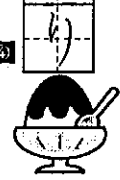
4 ち

3 え

4 き

5 り



二 つぎの えを みて、かたかなの ことばを かきま
 しょう。

1 ア ス

2 プ

3 ン


4 ン

3 ピ

4 ン

5 ン



5 ト


6 ン




6 シ

7 ン

8 ン



※つぎの ページにも もんだいが あります。


三 ④の なかに 「へ」「を」を 入れて、ただしい
 ぶんを つくりましょう。

1 わたしは、こうえん いきました。 ①


2 そして、みんなでおべんとう たべました。 ②

四 つぎの えを みて、ぶんを かきましよう。うすい
 の ところは なぞりましよう。


1 ど ぼ を く わ は お ま だ た ン ほ



2 い ぼ ば は に か け ま し た。で



3 な わ ま し た。は、ボ ル



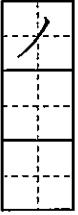
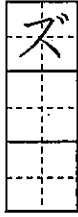
■ ことえ

- 一 1 にわとり 2 ろうか 3 つくえ
4 かきごおり
- 二 1 アイス 2 プール 3 ピアノ
4 サッカー 5 トラック 6 ショベルカー
- 三 1 わたしは、こうえん(へ)いきました。
2 そして、みんなでおべんどう(を)たべました。
- 四 1 ぼくは、おうだんほどをわたりました。
2 ぼくは、かけっこでいちばんになりました。
3 わたしは、ボールをなげました。

■ かんがえた
 ひらがなの よみかきは すべての がくしゅうで ひつように なるので
 すべての ひらがなの よみかきが できるように れんしゅう しましょう。
 ぶんを かく ときには ぶんの さじに くてん()を うつ ことが
 たいせつ です。


とりくんでみよう！

○ つぎの えを みて、かたかなの ことばを かきましよう。



○ つぎの えを みて、ぶんを かきましよう。

| | | | | | | | |
|---|--|---|--|--|--|--|--|
| よ | | わ | | | | | |
| | | た | | | | | |
| | | ま | | | | | |
| | | し | | | | | |
| | | た | | | | | |
| | | | | | | | |
| | | | | | | | |
| | | ほ | | | | | |
| | | ん | | | | | |



ことえ

。しまなやをんほはしたわ
 ーノ ス

○ ○


★先の方へ一解答欄の 1～10 は、問題紙裏面の採点番号に対応しています。

1 に あてはまる かずを かきましよう。

(1) 17 — — 16 — — 14 — — 13

(2) 6 — — — 10 — 12 —

2 とけいを よみましよう。



3 つぎの もんだいに こたえましよう。

(1) みかんが 3こ あります。
りんごが 8こ あります。
かずの ちがいは いくつですか。
みぎの [ず] を つかって かんがえ、
しきと こたえを かきましよう。

しき

こたえ

(2) ちゅうしゃじょうに くるまが 5だい あります。
あとから 7だい ききました。
せんぶで なんだいに なりましたか。
したの [ず] を つかって かんがえ、しきと こたえを かきましよう。

[ず] ●●●●● ○○○○○○

しき

こたえ

※つぎのページにも、もんだいがあります。

4

つぎの ①から③の もんだいを よんで、しきが 8 + 5 - 3 に
なるものを 1つえらんで、ばんごうを かきましよう。

①

くるみが 8こ ありました。
5こ あげました。
あとから 3こ もらいました。
くるみは なんこに なったでしようか。

②


がようしが 8まい ありました。
5まい つかいました。
また、3まい つかいました。
のこりは なんまいでしようか。

③

ばずに こともが 8にん のっています。
あとから 5にん のりました。
つぎに 3にん おりました。
ばずに こともは なんにん のっていますか。

5

えを みて、4 + 3の しきに なる もんだいを つくりましよう。



大先生方へ解答欄の①～⑤は、問題毎に算数の疑問番字に対応しています。

1 (1) 1

15

(2)

8

14

1ずつ へつて います。

2ずつ へつて います。

2

2じはん
(2じ30ぶん)

ずに なにも かいていなくても、しき、
 こたえが あつていれば せいかいです。

3 (1) (ず) みかん



3こ

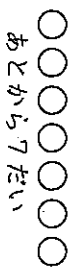

りんご ○○○○○○○○○○○○○○○○○ 8こ

しき 8 - 3

こたえ 5こ

ずに なにも かいていなくても、しき、
 こたえが あつていれば せいかいです。

(2) (ず)



しき 5 + 7

こたえ 12だい

4

③

①のしきは、8-5+3になります。
 ②のしきは、8-5-3になります。

5

(れい)

こうえんで こどもが 4にん あそんでいます。
 あとから 3にん やつてきました。
 こどもは ぜんいんで なんにんに なつたでしょう。

れいの「こどもの かず」の ほかに、「せの たかいきと せの ひくいきの かず」や
 「どんぐりの かず」「りすの かず」などでも、もんだいを つくることができます。